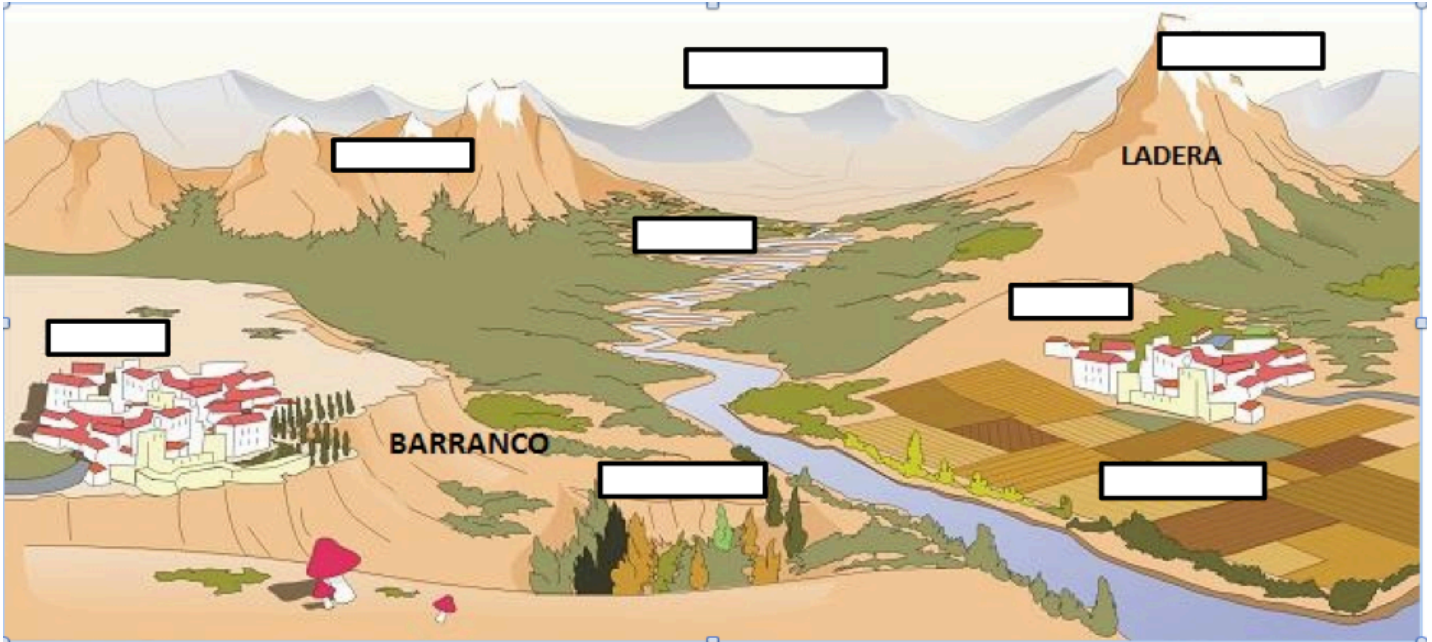


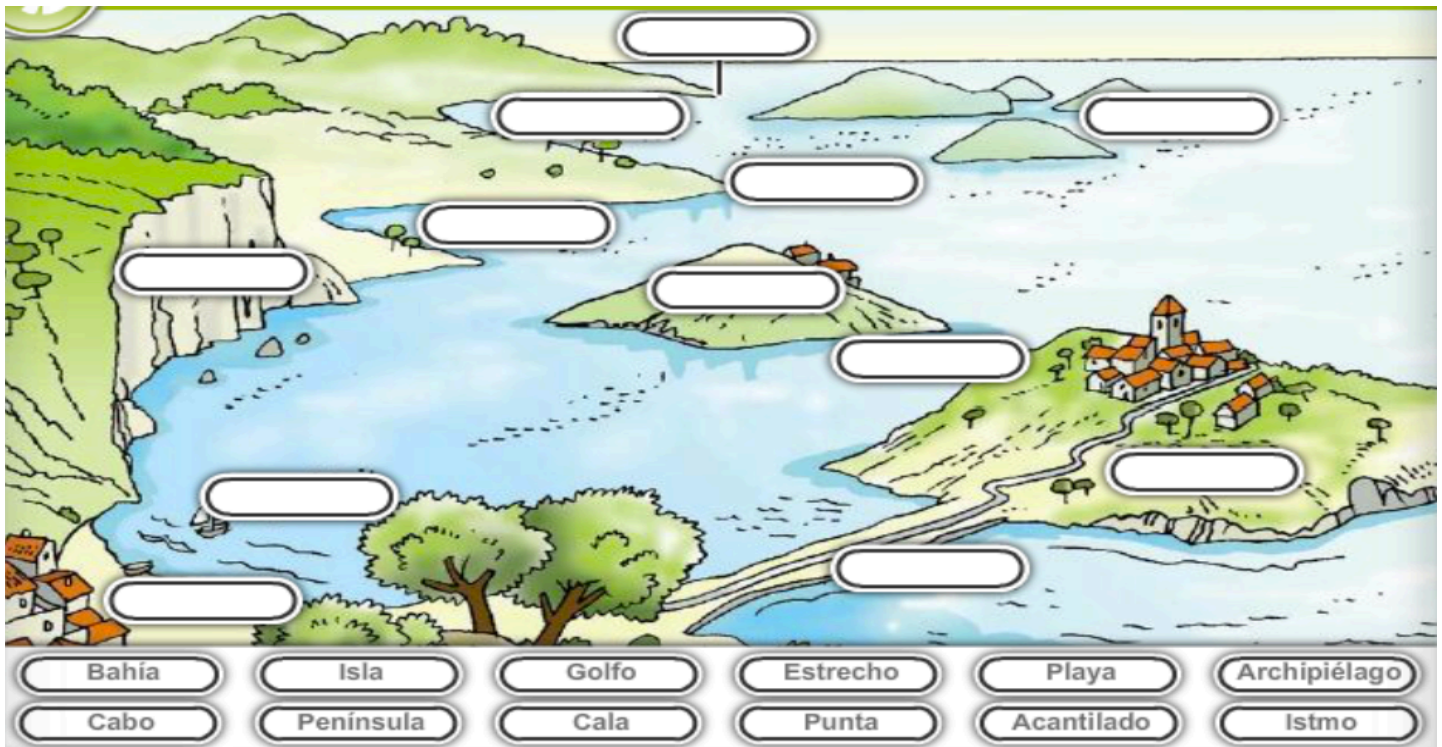
Nombre completo:
Curso:
Asignatura: geografía 6º

Complete la información requerida.

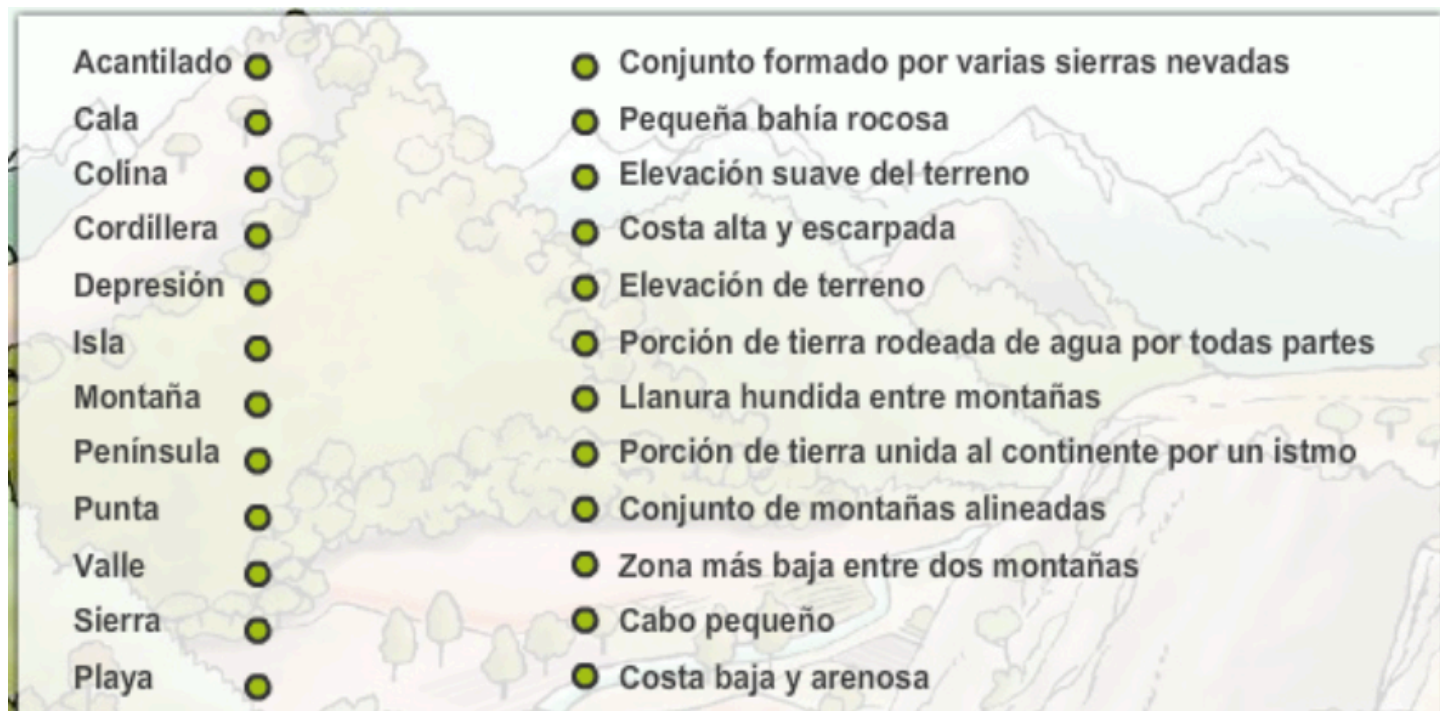
Paisaje de relieve de _____



Paisaje de relieve de _____



Une la información según corresponda.



Selecciona la opción correcta según la descripción.

Descripción	Formas de relieve						
Son grandes elevaciones del terreno	Las montañas	Llanuras	Depresión	Cordillera	Valles	Mesetas	Sierras
Son grandes extensiones de terreno liso y horizontal.	Llanuras	montañas	Depresión	Cordillera	Valles	Mesetas	Sierras
Son llanuras alargadas situadas entre montañas y recorridas por ríos.	Llanuras	Montañas	Depresión	Cordillera	Valles	Mesetas	Sierras
Una serie de montañas alineadas es una...	Llanuras	Montañas	Depresión	Cordillera	Valles	Mesetas	Sierras
Una llanura de mucha altitud es una ...	Llanuras	Montañas	Depresión	Cordillera	Valles	Mesetas	Sierras
Una gran extensión de terreno más baja que las tierras de alrededor es una ...	Llanuras	Montañas	Depresión	Cordillera	Valles	Mesetas	Sierras
Un conjunto de sierras es una ...	Llanuras	montañas	Depresión	Cordillera	Valles	Mesetas	Sierras